

PROVA di MATEMATICA

A1. RAGGRUPPA PER 10, REGISTRA SULL'ABACO E SCRIVI IL NUMERO

--	--	--

A2. QUAL È IL NUMERO FORMATO DA UNA DECINA E TRE UNITÀ?

- A. 4
- B. 31
- C. 13
- D. 33

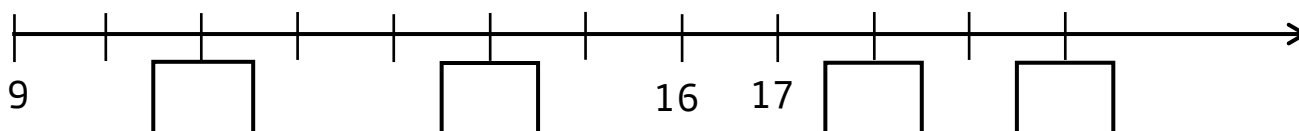
A3. COMPLETA LE TEBELLE CON I NUMERI PRECEDENTI E SUCCESSIVI.

	-1		+1
		5	
		8	
		13	

	-1		+1
		11	
		16	
		19	

	-1		+1
		6	
		17	
		14	

A4. SCRIVI NELLE CASELLE VUOTE IL NUMERO MANCANTE



A5. INSERISCI I SIMBOLI GIUSTI: > < =

$2 \square 12$

$15 \square 15$

$20 \square 4$

$16 \square 19$

A6. SCRIVI IN PAROLA O IN NUMERO

20 _____ 17 _____ 11 _____ 19 _____


TREDICI _____ QUINDICI _____ DICIOOTTO _____ SEDICI _____

A7. SCRIVO IL RISULTATO E RAPPRESENTO SULL'ABACO


$9 - 3 = 6$




$7 + 4 = \dots\dots$




$15 - 4 = \dots\dots$




$11 + 7 = \dots\dots$



$7 + 7 = \dots\dots$




$18 - 5 = \dots\dots$




$13 + 4 = \dots\dots$



$20 - 4 = \dots\dots$



A8. OSSERVA, CONTA E RISPONDI.



QUANTI QUADRATI?

QUANTI CERCHI?

QUANTI TRIANGOLI?

QUANTI RETTANGOLI?

A9. SEGNA CON UNA X L'OPERAZIONE CHE RISOLVE QUESTO PROBLEMA

MICHELE IL PESCATORE HA PESCATO 10 TROTE E 4 SALMONI. QUANTI PESCI HA PESCATO IN TUTTO?

- A. $10 - 4 = 6$
- B. $12 + 5 = 17$
- C. $10 + 3 + 1 = 14$
- D. $10 + 4 = 14$

A10. LEGGI CON ATTENZIONE, TROVA I DATI E RISOLVI IL PROBLEMA.

DAVIDE AVEVA 12 MATITE NEL SUO ASTUCCIO. NE HA PRESTATE 4 AI SUOI COMPAGNI. QUANTE MATITE HA ORA NEL SUO ASTUCCIO?

(FAI QUI IL DISEGNO)



MATITE NELL'ASTUCCIO DI DAVIDE:

MATITE PRESTATE AI SUOI COMPAGNI:

OPERAZIONE:

RISPOSTA

VALUTAZIONE

ITEM	RISPOSTA CORRETTA	P.TI	PUNTI TOT.
A1	0,5 punti per ogni risposta corretta	0,5x3	1,5
	0,5 punti per ogni registrazione corretta	0,5x3	1,5
	0,5 punti per ogni scrittura del numero corretta	0,5x3	1,5
A2	C	2	2
A3	0,5 punti per ogni scrittura del numero corretta	0,5x18	9
A4	1 punto per ogni numero	1x4	4
A5	0,5 punto per ogni numero	0,5x4	2
A6	1 punti per ogni numero	1x8	8
A7	0,5 punti per ogni operazione giusta	0,5x8	4
	1 punto per ogni rappresentazione giusta sull'abaco	1x8	8
	0,5 punti per ogni scrittura giusta	0,5x8	4
A8	Triangoli= 2	0,5x2	1
	Rettangoli = 7	0,5x7	3,5
	Cerchi = 6	0,5x6	3
	Quadrati = 2	0,5x2	1
A9	D	1	1
A10	Dati corretti	1x2	2
	Operazione giusta e corretta	0,5x2	2
	Risposta corretta	1	1
		TOTALE	60

Criteria di Valutazione

PUNTEGGIO	%	VALUTAZIONE	
57 - 60	95 - 100	AAS	Ampie Autonome Sicure
51 - 56	85 - 94	CEA	Complete e Autonome
45 - 50	75 - 84	QCA	Quasi del tutto Complete e Autonome
39 - 44	65 - 74	ACS	Abbastanza Complete e Acquisite in modo Sostanziale
33 - 38	55 - 64	ESS	Essenziali
27 - 32	45 - 54	PAR	Parziali
26	=< 44	MLI	Molto Limitate e Incomplete

Questa prova strutturata è stata scritta con la font biancoenero® di biancoenero edizioni srl disegnata da Riccardo Lorusso e Umberto Mischi.
La font biancoenero® è disegnata rispettando accorgimenti visivi che facilitano la lettura di tutti, in particolare dei lettori dislessici.