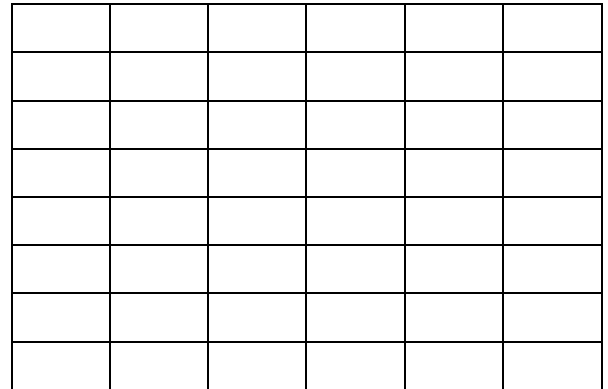
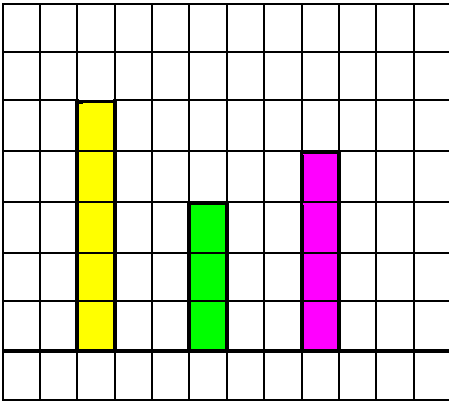
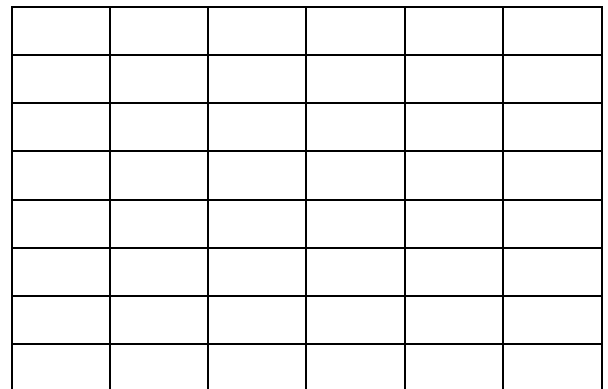
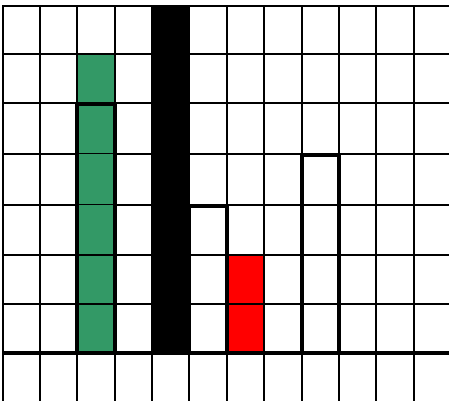


## MATEMATICA

### A1. DISEGNA I REGOLI IN ORDINE CRESCENTE



### A2. DISEGNA I REGOLI IN ORDINE DECRESCENTE



### A3. CONFRONTA CON < > =

6 ..... 9

7 ..... 6

9 ..... 4

8 ..... 5

7 ..... 7

4 ..... 5

0 ..... 2

4 ..... 3

### A4. SCRIVI IL NUMERO PRECEDENTE

	5
	2
	8
	9
	4
	1

### A5. SCRIVI IL NUMERO SUCCESSIVO

5	
0	
4	
2	
7	
3	

**A6. METTI IN ORDINE CRESCENTE**

5 - 2 - 7 - 4 - 1 - 8


..... - ..... - ..... - ..... - ..... - .....

**A7. METTI IN ORDINE DECRESCENTE**

3 - 0 - 6 - 9 - 5 - 4

..... - ..... - ..... - ..... - ..... - .....

**A8. SCRIVI IL NUMERO ORDINALE**



POFFI      FOFFI      PIFFI      PUFFI      TOFFI      POFFO      PAFFI

POFFI E' IL .....

PUFFI E' IL .....

PAFFI E' IL .....

PIFFI E' IL .....

FOFFI E' IL .....

POFFO E' IL .....

TOFFI E' IL .....

**A9. COLLEGA IL NUMERO IN CIFRE A QUELLO IN LETTERE**

SETTE	7
NOVE	6
CINQUE	8
OTTO	5
SEI	10
DIECI	9

A10. IL GATTO OLFATTO HA ANNUSATO IL TOPOLINO MA PER APRIRNE IL NASCONDIGLIO DEVE PRIMA RISOLVERE TUTTE LE OPERAZIONI. AIUTALO TU.

$3 + 5 =$

$6 + 3 =$

$4 + 2 =$

$8 + 0 =$

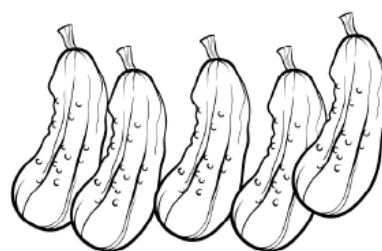
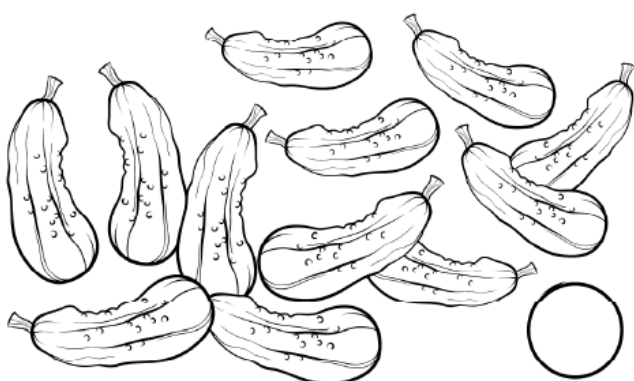
$4 + 4 =$



A11. ESEGUI LE SOTTRAZIONI CON I DISEGNI



$\bigcirc - \bigcirc = \bigcirc$



$\bigcirc - \bigcirc = \bigcirc$

A12. PER NON RESTARE IMPIGLIATO NELLA RAGNATELA DEVI ESEGUIRE CORRETTAMENTE LE SOTTRAZIONI

$3 - 0 =$

$6 - 6 =$


$5 - 3 =$

$7 - 1 =$

$9 - 6 =$

### A13. RISPONDI CON UNA OPERAZIONE


a)



Metti tutti i pastelli  
nella scatola.  
Quanti pastelli in  
tutto?

-----

b)



Quante fragole in  
meno ha la bambina?

-----

### A14. COMPLETA LA SEQUENZA DEI NUMERI

0- 1 -.....-.....-.....-.....-.....-.....-.....-.....-

### A15. COMPLETA LA MSEQUENZA DEI NUMERI CONTANDO ALL' INDIETRO

10 - 9 -.....- .....-.....-.....-.....-.....-.....-.....-

## A16. COMPLETA LE SEQUENZE DEI NUMERI

6- 7 -.....-.....-

5 -.....- 7 -.....-

-.....- 9 - 8 -.....-

8 - ....- .....- 5 -

## A17. COMPLETA LE ADDIZIONI



$$\boxed{4} + \boxed{1} = \boxed{\dots\dots}$$



$$\boxed{5} + \boxed{3} = \boxed{\dots\dots}$$



$$\boxed{6} + \boxed{2} = \boxed{\dots\dots}$$



$$\boxed{7} + \boxed{1} = \boxed{\dots\dots}$$

## A18. COLLEGA CIASCUN RISULTATO ALL' ADDIZIONE CORRISPONDENTE



$$\boxed{4 + 3}$$

$$\boxed{4 + 4}$$

$$\boxed{3 + 6}$$



$$\boxed{4 + 3}$$

$$\boxed{3 + 3}$$

$$\boxed{6 + 0}$$



$$\boxed{3 + 6}$$

$$\boxed{4 + 4}$$

$$\boxed{5 + 5}$$

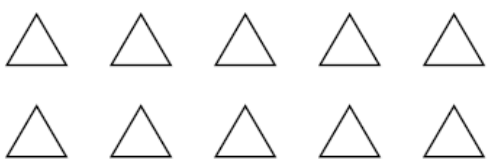



$$\boxed{2 + 5}$$

$$\boxed{4 + 2}$$

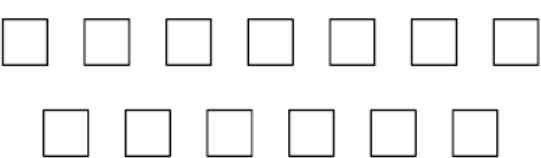

$$\boxed{5 + 3}$$

**A19. RAGGRUPPA PER 10 E SCRIVI IL NUMERO DEGLI OGGETTI**

	LE DECINE SONO <input type="text"/>					
	LE UNITÀ SONO <input type="text"/>	<table border="1" data-bbox="1149 403 1340 560"> <tr> <td>da</td> <td>u</td> </tr> <tr> <td>.....</td> <td>.....</td> </tr> </table>	da	u	.....	.....
da	u					
.....	.....					

	LE DECINE SONO <input type="text"/>					
	LE UNITÀ SONO <input type="text"/>	<table border="1" data-bbox="1149 761 1340 918"> <tr> <td>da</td> <td>u</td> </tr> <tr> <td>.....</td> <td>.....</td> </tr> </table>	da	u	.....	.....
da	u					
.....	.....					

**A20. RAGGRUPPA PER 10 E SCRIVI IL NUMERO DEGLI OGGETTI**

	LE DECINE SONO <input type="text"/>					
	LE UNITÀ SONO <input type="text"/>	<table border="1" data-bbox="1149 1344 1340 1500"> <tr> <td>da</td> <td>u</td> </tr> <tr> <td>.....</td> <td>.....</td> </tr> </table>	da	u	.....	.....
da	u					
.....	.....					

	LE DECINE SONO <input type="text"/>					
	LE UNITÀ SONO <input type="text"/>	<table border="1" data-bbox="1149 1702 1340 1859"> <tr> <td>da</td> <td>u</td> </tr> <tr> <td>.....</td> <td>.....</td> </tr> </table>	da	u	.....	.....
da	u					
.....	.....					

ITEM	PUNTEGGIO ATTRIBUITO	PUNTEGGIO
1	1	1
2	1	1
3	0,5X8	4
4	0,5X6	3
5	0,5X6	3
6	1-2-4-5-7-8	3
7	9-6-5-4-3-0	5
8	1X7	7
9	0,5X6	3
10	1X5	5
11	0,50 X 2	1
12	0,20X5	1
13	0,50X2	1
14	1	1
15	1	1
16	0,50X2	1
17	0,25X4	1
18	0,25X4	1
19	0,50X2	1
20	0,50X2	1

**PUNTEGGIO TOTALE: 45**

### Valutazione

PUNTEGGIO	VOTO
45	10
44- 43	9
42-41-40	8
39-38- 37-36-35	7
30-31-32-33-34	6
Fino a29	5