

PROVA di GEOGRAFIA

D1. Il luogo dove vivo si chiama è un posto di:

- A. pianura
 - B. montagna
 - C. mare
 - D. collina
-

D2. Quali fra questi elementi fanno parte del "paesaggio naturale?"

- A. mare - torrente - strade - bosco - neve
 - B. animali - fiume - fattoria - rocce - piante
 - C. mare - montagne - fiumi - boschi - piante
 - D. strade - case - ponti - gallerie - fabbriche
-

D3. Quali fra questi elementi fanno parte del "paesaggio artificiale?"

- A. mare - torrente - strade - bosco - neve
 - B. strade - case - ponti - gallerie - fabbriche
 - C. mare - montagne - fiumi - boschi - piante
 - D. animali - fiume - fattoria - rocce - piante
-

**D4. LA MONTAGNA - Cerchia i nomi degli elementi che vedi evidenziati:
verde = elementi naturali; blu = elementi antropici.**


*6 agosto 2021. Oggi sono arrivato fino al **rifugio** Italia, che si trova in alta montagna. Con i miei genitori sono partito dall'albergo che si trova nella valle, ho attraversato un **bosco** e sono salito fino ai **pascoli alti**, dove le mucche vivono durante l'estate. Per arrivare al rifugio abbiamo preso la **funivia**, che ci ha portato sulla **vetta**, dove ci sono solo **rocce** e non c'è vegetazione. È stato bellissimo!*

D5. Segna con una X la frase corretta.

- A. Il paesaggio si trasforma nel corso del tempo
- B. Il paesaggio si trasforma solo se piove
- C. Il paesaggio non si trasforma mai
- D. Il paesaggio si trasforma all'improvviso

GLI ELEMENTI FISICI E ANTROPICI DI UN PAESAGGIO

D6. Per ogni elemento, scrivi **naturale** o **artificiale** (antropico).



.....



.....



.....



.....



.....



.....



.....



.....



.....



.....



.....




.....

D7. Il paesaggio viene modificato:

- A. dagli animali e dalle piante
 - B. dai fiumi e dai laghi
 - C. dal calore del sole
 - D. dai fenomeni naturali e dall'uomo
-

D8. L'uomo modifica il territorio per:

- A. renderlo più bello
- B. soddisfare i suoi bisogni
- C. renderlo più accogliente
- D. cambiare il panorama




D9. Quale dei seguenti lavoratori svolge la sua attività a contatto con l'ambiente naturale?

- A. Il medico B. L'impiegato C. Il contadino D. L'avvocato
-

D10. L'uomo ha costruito il faro per:

- A. guidare le navi di notte
 - B. vedere il porto dall'alto
 - C. illuminare il mare
 - D. conservare il grano al suo interno
-


D11. Osserva i due paesaggi e scrivi le sei (6) modificazioni apportate dall'uomo al territorio.



1

2

3



4







5

6

D12. Perché l'uomo modifica il paesaggio? Leggi e collega nel modo giusto.

1. Le strade e le ferrovie	a. danno riparo e protezione
2. I ponti	b. permettono di attraversare le montagne
3. Le abitazioni	c. dà a tutti la possibilità di conoscere e imparare tante cose
4. Le gallerie	d. consentono di spostarsi con facilità
5. La scuola	e. permettono di attraversare i fiumi

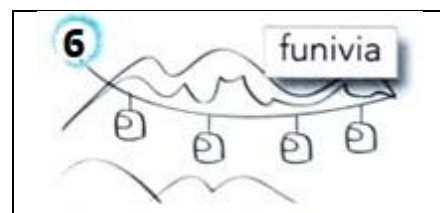

D13. Scrivi il nome dell'ambiente in cui vive ogni animale scegliendo tra: MONTAGNA – CAMPAGNA - MARE

1  aquila	2  tonno	3  gallina
4  gambero	5  stella marina	6  maiale

D14. Scrivi il nome dell'ambiente in cui si svolge ogni lavoro scegliendo tra: MONTAGNA – CAMPAGNA – MARE



D15. Scrivi il nome dell'ambiente in cui puoi trovare ogni elemento scegliendo tra: MONTAGNA – CAMPAGNA – MARE



VALUTAZIONE

ITEM	RISPOSTA CORRETTA	P.TI	PUNTI TOT.
D1	D	1	1
D2	C	2	2
D3	B	2	2
D4	Strada - galleria - funivia casa - distributore - diga	1x6	6
D5	C	3	3
D6	Risposte corrette	1x12	12
D7	B		3
D8	B		3
D9	A		1
D10	Risposte corrette	1X3	3
D11	Risposte corrette	1X6	6
D12	Risposte corrette	1X6	6
D13	Risposte corrette	1X4	4
D14	Risposte corrette	1X4	4
	Risposte corrette	1X4	4
Totale			60

CRITERI DI VALUTAZIONE

PUNTEGGIO	%	VALUTAZIONE	
57 - 60	95 - 100	AAS	Ampie Autonome Sicure
51 - 56	85 - 94	CEA	Complete e Autonome
45 - 50	75 - 84	QCA	Quasi del tutto Complete e Autonome
39 - 44	65 - 74	ACS	Abbastanza Complete e Acquisite in modo Sostanziale
33 - 38	55 - 64	ESS	Essenziali
27 - 32	45 - 54	PAR	Parziali
26	=< 44	MLI	Molto Limitate e Incomplete

Questa prova strutturata è stata scritta con la font biancoenero® di biancoenero edizioni srl disegnata da Riccardo Lorusso e Umberto Mischi.

La font biancoenero® è disegnata rispettando accorgimenti visivi che facilitano la lettura di tutti, in particolare dei lettori dislessici.