

Prova di STORIA IV UA CL II

1. Indica con una X se queste fonti sono **visive (V)**, **materiali (M)**, **orali (O)** o **scritte (S)**.

	V	M	O	S
a) astuccio				
b) fotografia				
c) biglietto d'ingresso				
d) biberon				
e) diario di classe prima				
f) disegno				
g) racconto del nonno				
h) video del primo giorno di scuola				
i) lettera				
j) conchiglia				

2. Giocattoli e vestiti sono fonti:

- A. orali
- B. materiali
- C. scritte
- D. visive

3. Indica se i seguenti oggetti appartengono al "PRESENTE" o al "PASSATO".

	PRESENTE	PASSATO
a) penna		
b) computer		
c) pennino		
d) calamaio		
e) macchina per scrivere		
f) calcolatrice		

4. Le fonti sono tracce che permettono di:

- A. Orientarsi nello spazio
- B. Ricostruire il nostro passato
- C. NON ricostruire il passato
- D. Costruire il nostro futuro

5. Quanti tipi di fonte conosci?

- A. 5
- B. 2
- C. 3
- D. 4

6. Leggi questa pagina di diario (fonte scritta) e ricava le informazioni per rispondere alle domande

Domenica 14 marzo 2023

Caro diario, ieri è stata una giornata bellissima! Sono stata alla festa di compleanno di Anna che, come me, ha 8 anni. La pizzeria era piena di gente ma per noi era stata riservata una saletta piena di palloncini e nastri. Abbiamo mangiato pizza, supplì, patatine e una torta al cioccolato. Anna ha ricevuto tanti regali ma il mio album delle modelle, con i vestiti da disegnare, le è piaciuto più di ogni altro.

Melissa

- a. Chi scrive questa pagina di diario? _____
- b. Quanti anni ha Anna? _____
- c. In che giorno della settimana si è svolta la festa del suo compleanno? _____
- d. Dove si è svolta la festa? _____
- e. In che anno è nata Anna? _____

7. Le fonti storiche sono tracce lasciate dagli uomini del passato?

- VERO FALSO

8. Segna l'affermazione sbagliata.

- A. I nostri bisnonni riscaldavano le case con il camino.
- B. Un tempo si mieteva con la falce, oggi si miete con la mietitrebbia.
- C. Un tempo per viaggiare si usavano le carrozze trainate dai cavalli.
- D. I nostri bisnonni seguivano i cartoni animati alla TV

9. Collega le abitazioni all'epoca giusta.

1
CAVERNA – PALAFITTA –
CAPANNA

a)
AL TEMPO DEI BISNONNI

2
CASTELLI

b)
OGGI, NEL NOSTRO TEMPO

3
SEMPLICI ABITAZIONI

c)
AL TEMPO DEI SIGNORI DEI
CASTELLI

4
CASE E PALAZZI FATTI
IN CEMENTO E FERRO E
GRATTACIELI

d)
AL TEMPO DEGLI UOMINI
PRIMITIVI

10. Indica se le seguenti affermazioni sono vere (V) o false (F).

	V	F
a. I racconti dei nonni sono fonti orali.		
b. Il biglietto del cinema è una fonte scritta.		
c. Le armi degli uomini preistorici sono fonti vive.		
d. Una pagina di diario è una fonte materiale.		

11. Completa le frasi.

- a. Le fotografie e i quadri sono fonti
- b. Racconti e canzoni sono fonti
- c. Vasi e vestiti sono fonti
- d. Documenti e libri sono fonti

12. Di seguito puoi trovare un elenco di fonti storiche.

Scrivi accanto a ciascuna fonte se si tratta di una FONTE MATERIALE (FM) o di una FONTE SCRITTA (FS).

	FM	FS
a. Diario dell'infanzia dei nonni.	<input type="checkbox"/>	<input type="checkbox"/>
b. Edificio antico.	<input type="checkbox"/>	<input type="checkbox"/>
c. Certificato di nascita	<input type="checkbox"/>	<input type="checkbox"/>
d. Vaso di terracotta.	<input type="checkbox"/>	<input type="checkbox"/>
e. Monete.	<input type="checkbox"/>	<input type="checkbox"/>

13. Il termine successivamente ha lo stesso significato della parola:



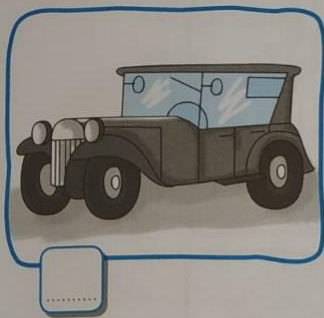
- A. precedentemente
- B. ora
- C. dopo
- D. contemporaneamente

14. L'espressione in precedenza si riferisce al




- A. futuro
- B. passato
- C. presente
- D. a nessuno dei tre

15. Numera da 1 a 3 dal più antico a l più recente.



a.



b.



c.



ISTITUTO COMPRESIVO S@MNIUM
 Anno scolastico 2022/23 - IV U.A. (AMBIENTE - SALUTE)
 Scuola Primaria - Classe II
 Storia - Griglia di Valutazione Prova Strutturata n. 4

ITEM	RISPOSTA CORRETTA	PUNTEGGIO
1	a)M b)V c)S d)M e) S f)V g)O h)V i)S j)M	1 punti x 10= 10 punti
2	B	2 punti
3	PRESENTE:a), b), f) PASSATO: c), d), e)	1 punti x 6 = 6 punti
4	B	3 punti
5	D	2 punti
6	a. Melissa; b. 8; c. sabato; d. in pizzeria; e. nel 2015	2 punto x 4 = 8 punti
7	VERO	2 punti
8	D	3 punti
9	1d - 2c - 3a - 4b	1 punto x 4 = 4 punti
10	a. VERO; b. VERO; c. FALSO; d. FALSO	1 punto x 4 = 4 punti
11	a. visive; b. orali; c. materiali; d.scritte	1 punto x 4 = 4 punti
12	a. FS; b. FM; c. FS; d. FM, e.FM	1 punto x 5= 5 punti
13	C	2 punti
14	B	2 punti
15	In riferimento alle immagini a. 1 seconda, 2 prima, 3 terza b. 1 terza, 2 seconda, 3 prima c. 1 terza, 2 seconda, 3 prima	1 punto x 3 = 3 punti

PUNTEGGIO TOTALE: 60

Criteria di Valutazione

PUNTEGGIO	%	VALUTAZIONE		LIVELLO
57-60	95-100	AAS	Ampie Autonome Sicure	AVANZATO
51-56	85-94	CEA	Complete e Autonome	
45-50	75-84	QCA	Quasi del tutto Complete e Autonome	INTERMEDIO
39-44	65-74	ACS	Abbastanza Complete e Acquisite in modo Sostanziale	
33-38	55-64	ESS	Essenziali	BASE
27-32	45-54	PAR	Parziali	IN VIA DI PRIMA
26	=< 44	MLI	Molto Limitate e Incomplete	ACQUISIZIONE

